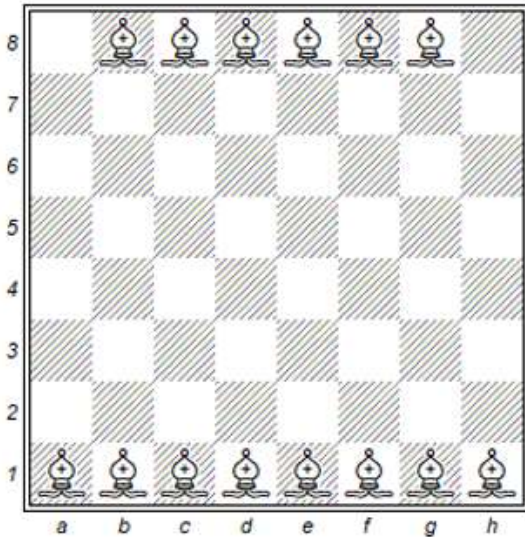


Megoldások

2022. szeptember

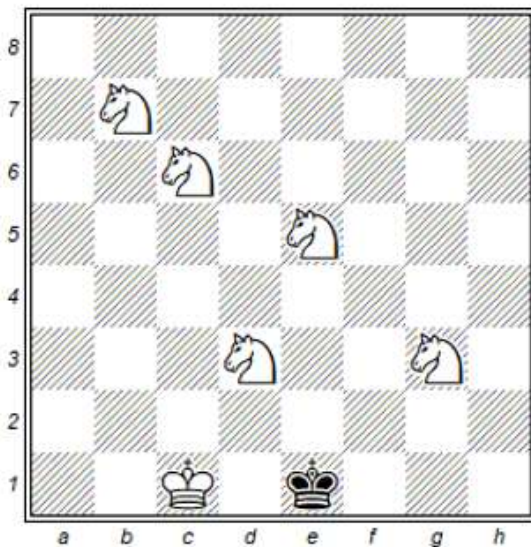
1. feladat

Állítsunk fel a táblára a lehető legtöbb futót úgy, hogy azok ne üthessék egymást.

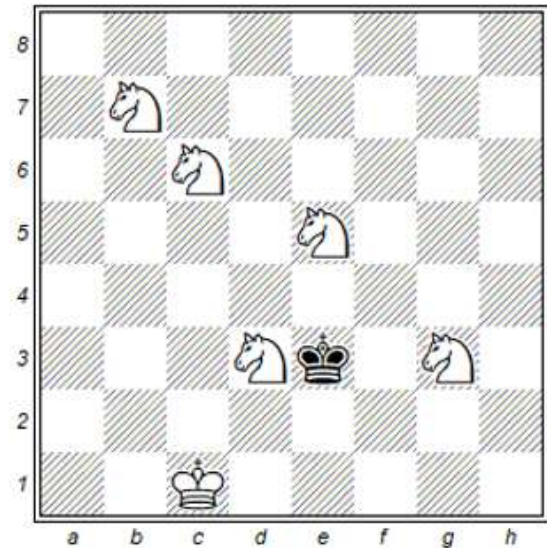


2. feladat

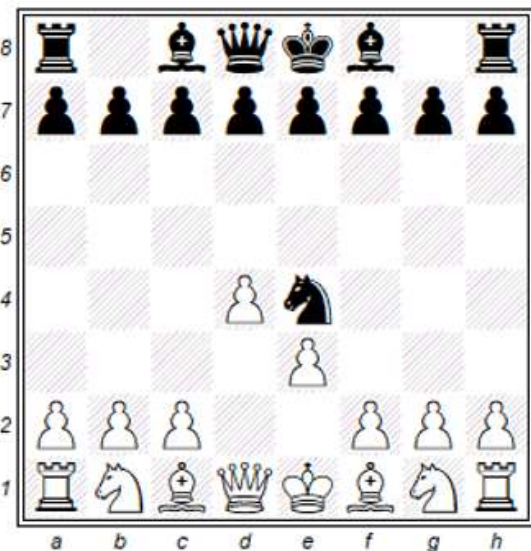
a.) Helyezzük el a sötét királyt úgy, hogy mattban álljon.



b.) Helyezzük el a sötét királyt úgy, hogy pattban álljon.



3. feladat



A fenti állás egy szabályos sakk játszma során sötét 4. lépése (vagyis 4 lépéspár megtétele) után állt elő.

Mi volt ez a 4 lépéspár?

1. d4 Hh6
2. Fxh6 Ha6
3. Fc1 Hc5
4. e3 He4